

Opgave 5 – Brazilië: Migratie in Brazilië

Bij deze opgave horen de bronnen 12 tot en met 16.

Gebruik de bronnen 12 en 13.

Er bestaat een ruimtelijk verband tussen de thema's die op deze twee kaarten worden afgebeeld.

2p 16 Leg dit verband uit.

Je uitleg moet een oorzaak-gevolgrelatie bevatten.

Gebruik de bronnen 14 en 15.

In de deelstaat Rondônia, in het westen van Brazilië, groeit de bevolking jaarlijks harder dan in veel andere deelstaten in Brazilië. Het geboortecijfer en het vestigingsoverschot in deze deelstaat zijn relatief hoog.

2p 17 Geef

- een oorzaak waardoor een hoog vestigingsoverschot kan leiden tot een relatief hoog geboortecijfer;
- nog een andere oorzaak van het relatief hoge geboortecijfer in deze deelstaat.

Gebruik de bronnen 14 en 16.

Vier regio's in Brazilië hebben een bevolkingsdichtheid van meer dan 100 inwoners per km².

2p 18 Geef aan

- in welk van deze regio's de inkomensongelijkheid het kleinst is;
- waardoor de inkomensongelijkheid in de regio Amazonas hoog is.

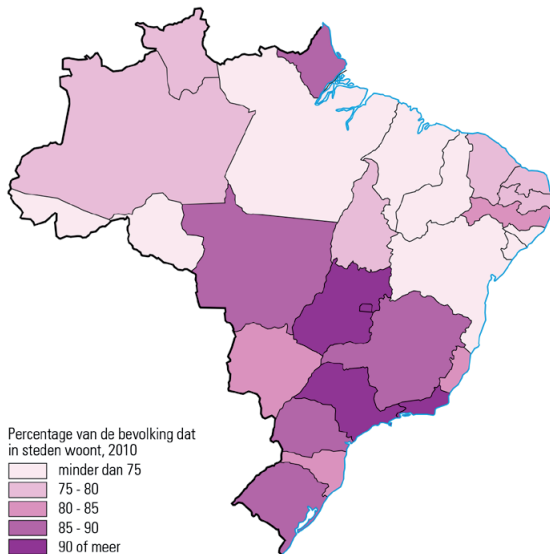
In Braziliaanse steden wonen relatief veel migranten in favelas.

2p 19 Geef hiervoor

- een economische reden;
- een sociaal-culturele reden.

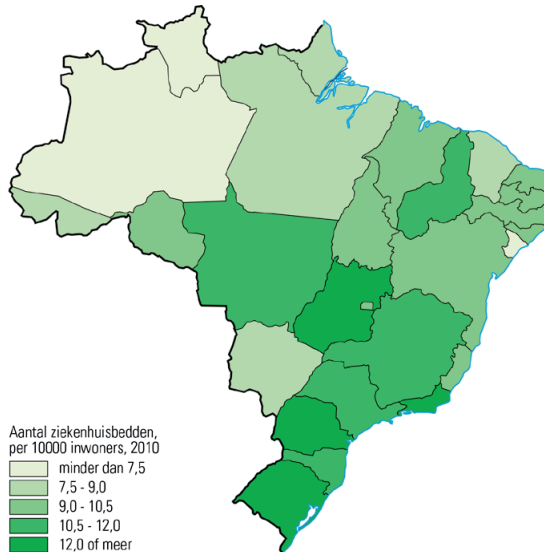
Opgave 5 – Brazilië: Migratie in Brazilië

bron 12
Brazilië stedelijke bevolking



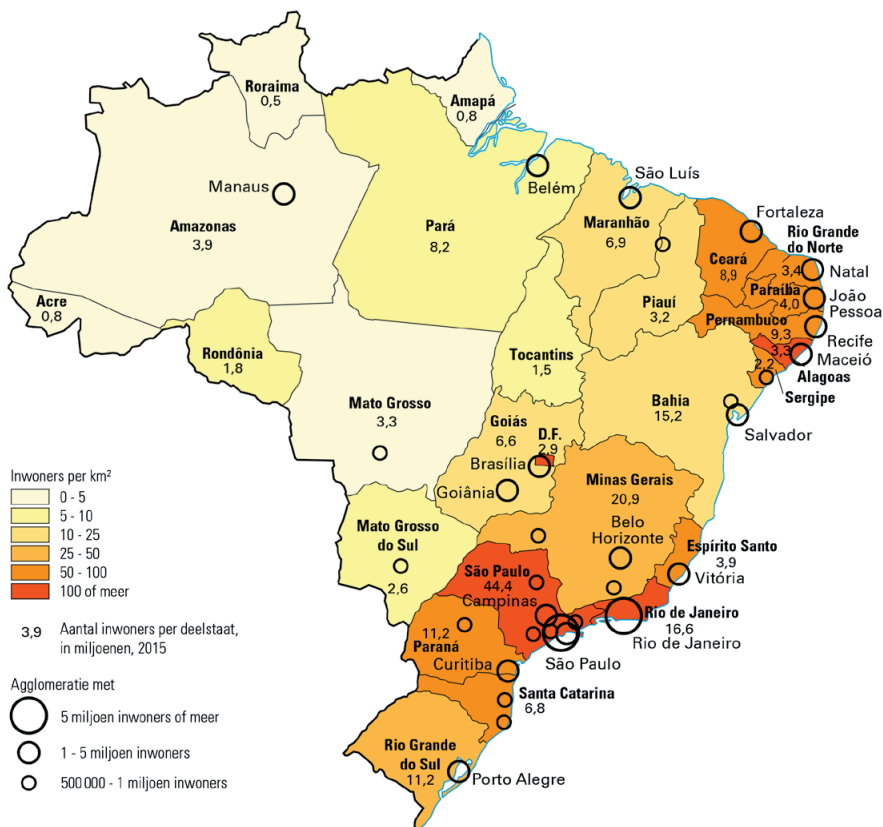
1 : 60.000.000

bron 13
Brazilië gezondheidszorg



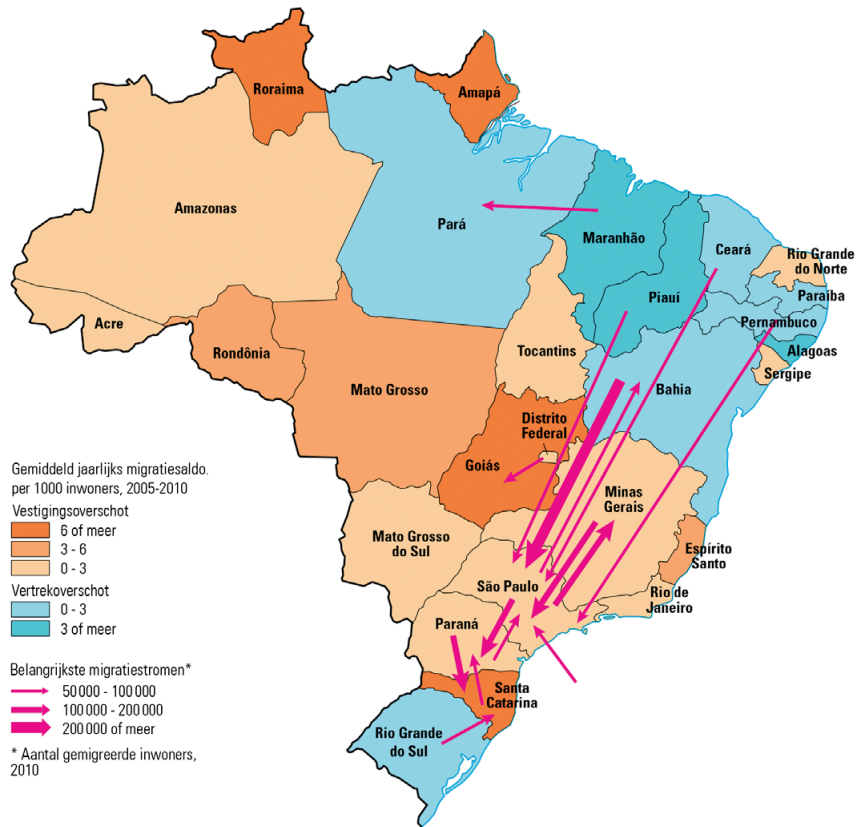
1 : 60.000.000

bron 14 **Brazilië bevolkingsdichtheid**



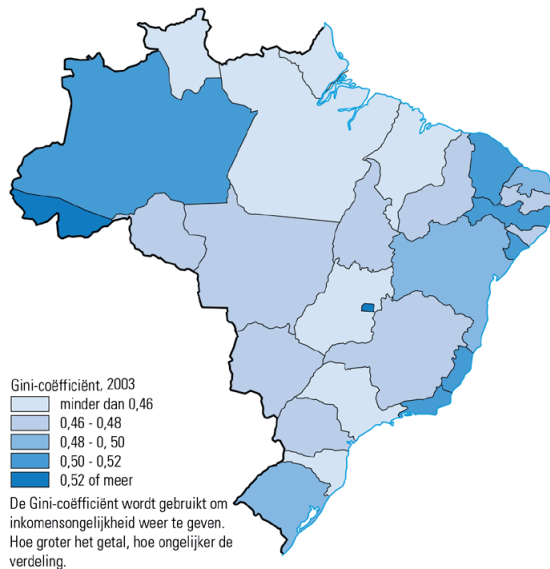
1:40.000.000

bron 15 Brazilië migratie



1:40.000.000

bron 16 Brazilië sociale ongelijkheid



1 : 60.000.000

Bronvermelding

Een opsomming van de in dit examen gebruikte bronnen, zoals teksten en afbeeldingen, is te vinden in het bij dit examen behorende correctievoorschrift, dat na afloop van het examen wordt gepubliceerd.